

## EKONOMI MIKRO

Kode

PERTEMUAN KETIGA:

**KESEIMBANGAN PASAR**

# 3

Rini Dwiastuti  
Nuhfil Hanani  
2008

### Substansi:

1. Pengertian & Karakteristik Keseimbangan Pasar
2. Excess demand & *Excess Supply*
3. Comparative Statics (Analisa yang merubah keseimbangan):
  - a. Kurva permintaan bergeser
  - b. Kurva penawaran bergeser
  - c. Kurva permintaan & penawaran bergeser

nuhfil hanani : web site : www.nuhfil.com, email : nuhfil@yahoo.com

## 1. KESEIMBANGAN PASAR

### ◆ Keseimbangan harga (*Equilibrium Price*)

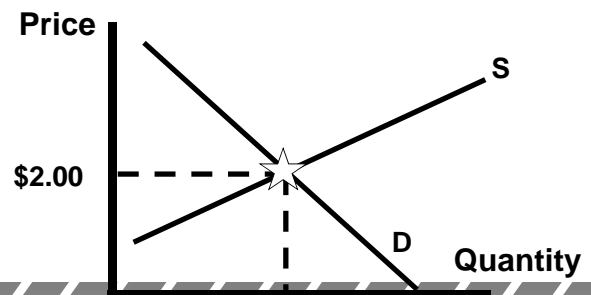
Harga dimana kurve supply and demand berpotongan.

### ◆ Ksesimbangan Quantitas (*Equilibrium Quantity*)

Jumlah dimana kurve supply and demand berpotongan; berarti, Jumlah yang diminta dan jumlah yang ditawarkan adalah sama

nuhfil hanani : web site : www.nuhfil.com, email : nuhfil@yahoo.com

### Keseimbangan pasar (*Market Equilibrium*)



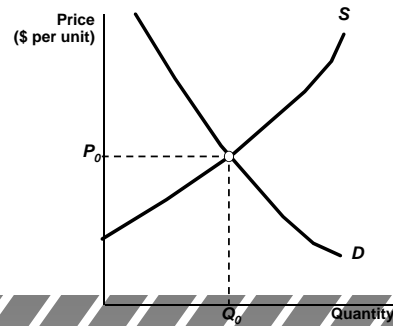
nuhfil hanani : web site : www.nuhfil.com, email : nuhfil@yahoo.com

**Karakteristik dari keseimbangan pasar atau market clearing price:**

- $Q_D = Q_S$
- No kekurangan
- No kelebihan
- tidak ada tekanan yang dapat merubah harga

nuhfil hanani : web site : www.nuhfil.com, email : nuhfil@yahoo.com

Kurve supply dan demand berpotongan, atau terjadi market-clearing, price. Pada  $P_0$  jumlah yang ditawarkan adalah sama dengan jumlah yang diminta yakni pada  $Q_0$ .



nuhfil hanani : web site : www.nuhfil.com, email : nuhfil@yahoo.com

**2. Excess demand & Excess Supply**

◆ **Excess Supply**

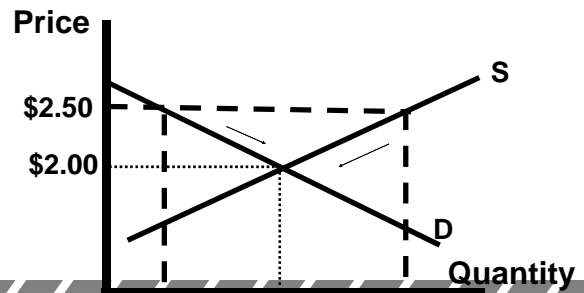
Harga di atas kesimbangan harga, sehingga produsen tidak dapat menjual semua barang yang diinginkan pada harga tersebut.

◆ **Excess Demand**

Harga di bawah kesimbangan harga, sehingga konsumen tidak mampu membeli semua yang diinginkan pada harga tersebut.

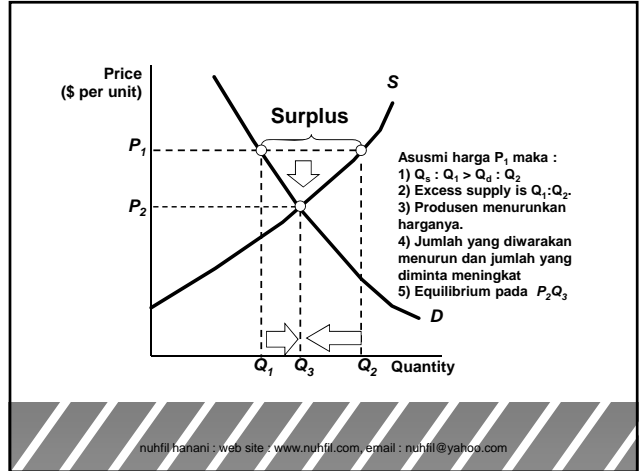
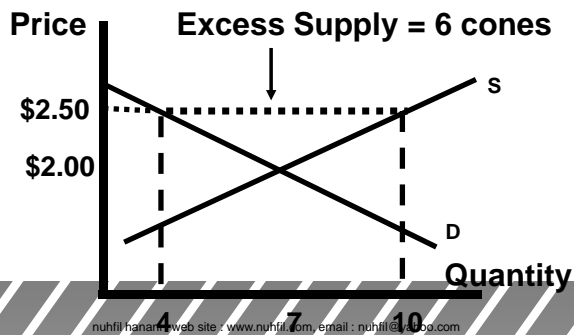
nuhfil hanani : web site : www.nuhfil.com, email : nuhfil@yahoo.com

Aksi penjual dan pembeli yang bergerak ke arah keseimbangan

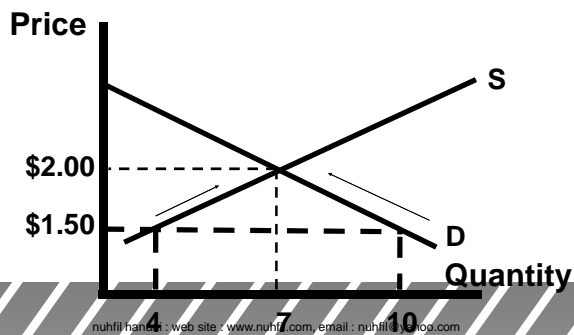


nuhfil hanani : web site : www.nuhfil.com, email : nuhfil@yahoo.com

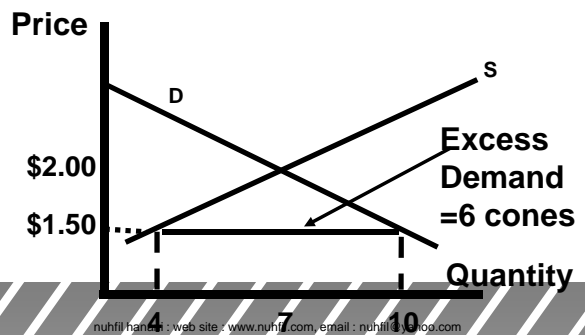
Aksi penjual dan pembeli yang bergerak ke arah keseimbangan

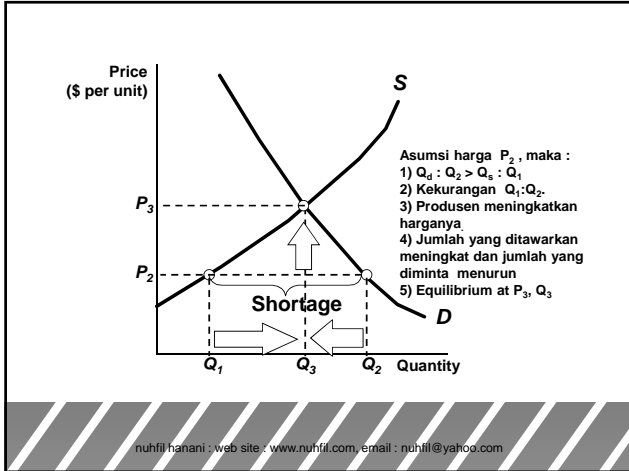


Aksi penjual dan pembeli yang bergerak ke arah keseimbangan



Aksi penjual dan pembeli yang bergerak ke arah keseimbangan

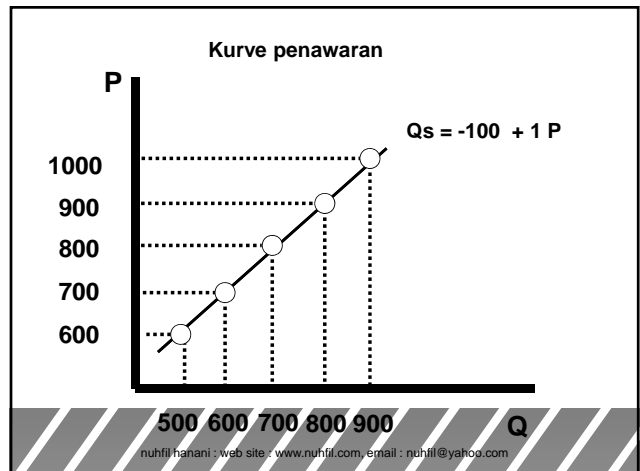
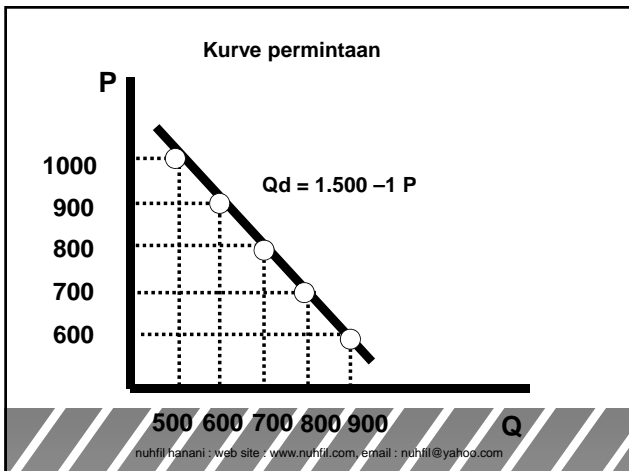


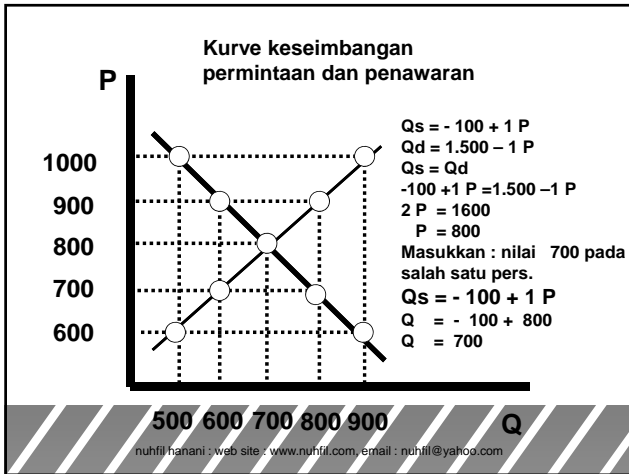


**PENDEKATAN MATEMATIK**

Harga (Rp.)	Jumlah HP Yang Diminta	Jumlah HP Yang Ditawarkan	Sifat Hubungan
600.000,-	900 bh	500 bh	Kelebihan permintaan
700.000,-	800 bh	600 bh	Kelebihan permintaan
800.000,-	700 bh	700 bh	<i>Keseimbangan</i>
900.000,-	600 bh	800 bh	Kelebihan penawaran
1.000.000,-	500 bh	900 bh	Kelebihan penawaran

nuhfil hanani : web site : www.nuhfil.com, email : nuhfil@yahoo.com

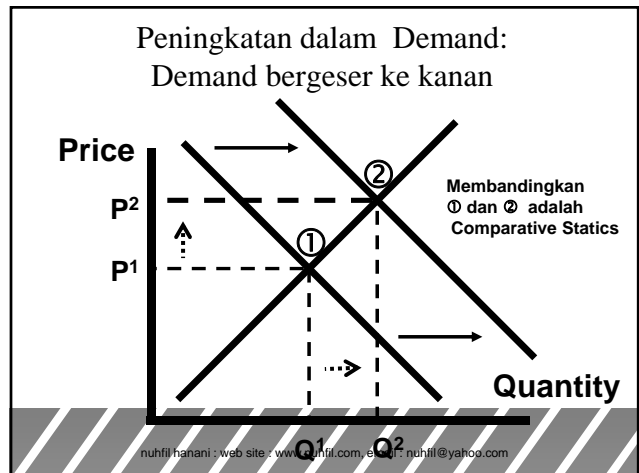
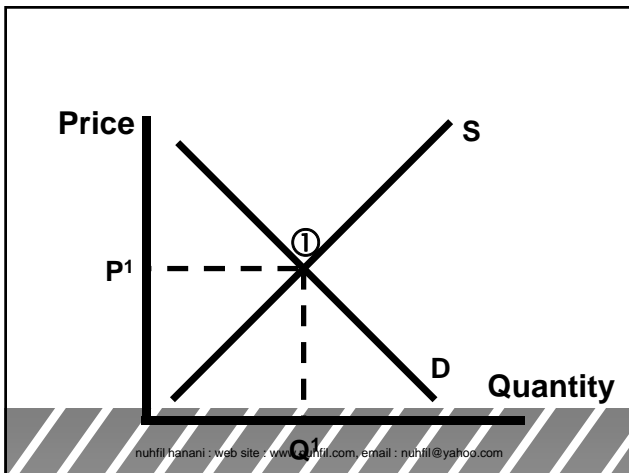




### 3. Comparative Statics: Analisa yang merubah keseimbangan

- ◆ Keseimbangan harga ditentukan oleh kekuatan supply dan demand.
- ◆ Supply dan demand ditentukan oleh nilai yang mempengaruhi supply dan demand
- ◆ Perubahan satu atau kombinasi dari variabel yang mempengaruhi demand dan supply akan menyebabkan perubahan keseimbangan harga dan kuantitas

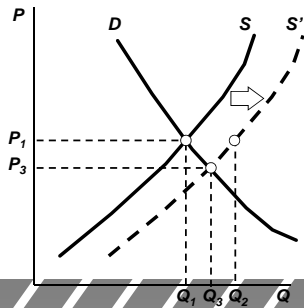
nuhfil hanani : web site : www.nuhfil.com, email : nuhfil@yahoo.com



Perubahan dalam keseimbangan pasar

◆ Harga bahan baku turun

- S shifts to S'
- Surplus @  $P_1$  of  $Q_1, Q_2$
- Equilibrium @  $P_3, Q_3$

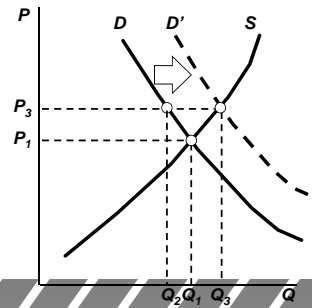


nuhfil hanani : web site : www.nuhfil.com, email : nuhfil@yahoo.com

Perubahan dalam keseimbangan pasar

◆ Income meningkat

- Demand shifts to  $D_1$
- Shortage @  $P_1$  of  $Q_1, Q_2$
- Equilibrium @  $P_3, Q_3$

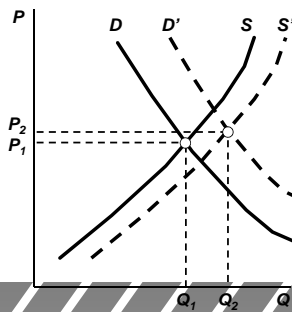


nuhfil hanani : web site : www.nuhfil.com, email : nuhfil@yahoo.com

Perubahan dalam keseimbangan pasar

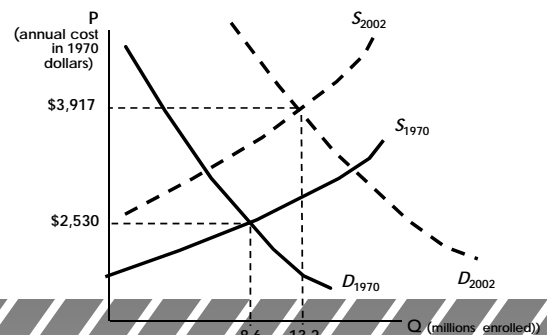
◆ Income meningkat dan harga bahan baku turun

- The increase in  $D$  is greater than the increase in  $S$
- Equilibrium price and quantity increase to  $P_2, Q_2$

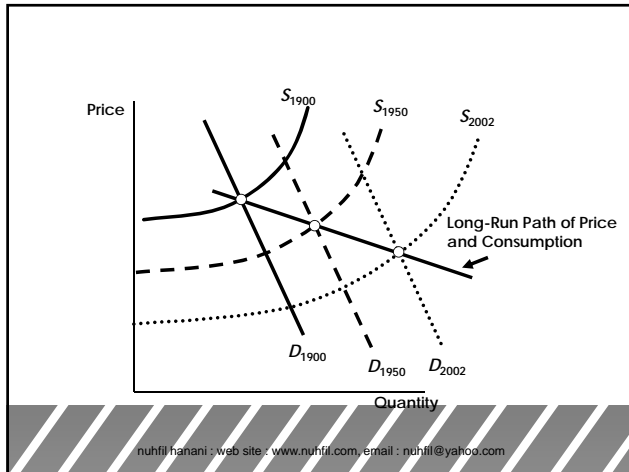


nuhfil hanani : web site : www.nuhfil.com, email : nuhfil@yahoo.com

Pasar untuk Pendidikan Tinggi



nuhfil hanani : web site : www.nuhfil.com, email : nuhfil@yahoo.com



## Tugas

### 1. Jika

(i)  $Q_D = 50 - 3P$ ;  $Q_S = 10 + 2P$

◆ Gambarkan kurve S dan D.

◆ Tentukan equilibrium P and Q.

(ii)  $Q_D = 50 - 3P + I$

◆ Gambar kurve D untuk  $I = 10$ .

◆ Tunjukkan pengaruh meningkatnya I dari \$10 menjadi \$25.

nuhfil hanani : web site : www.nuhfil.com, email : nuhfil@yahoo.com